

1.



Het is kwart over _____.

2.



Het is kwart over _____.

3.



Het is half _____.

4.



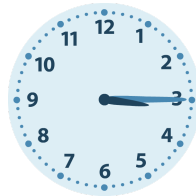
Het is half _____.

5.



Het is kwart voor _____.

6.



Het is kwart over _____.

7.



Het is half _____.

8.



Het is kwart voor _____.

9.



Het is kwart voor _____.

10.



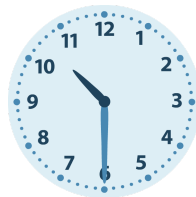
Het is kwart voor _____.

11.



Het is kwart voor _____.

12.



Het is half _____.

1.



Het is kwart over **6**.

2.



Het is kwart over **6**.

3.



Het is half **9**.

4.



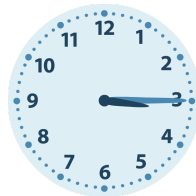
Het is half **7**.

5.



Het is kwart voor **3**.

6.



Het is kwart over **3**.

7.



Het is half **7**.

8.



Het is kwart voor **5**.

9.



Het is kwart voor **12**.

10.



Het is kwart voor **11**.

11.



Het is kwart voor **6**.

12.



Het is half **11**.