

1.



Het is kwart voor \_\_\_\_\_.

2.



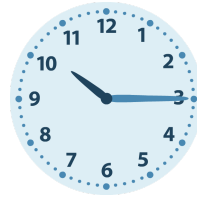
Het is half \_\_\_\_\_.

3.



Het is kwart over \_\_\_\_\_.

4.




Het is kwart over \_\_\_\_\_.

5.



Het is kwart voor \_\_\_\_\_.

6.



Het is kwart over \_\_\_\_\_.

7.



Het is kwart over \_\_\_\_\_.

8.



Het is kwart over \_\_\_\_\_.

9.



Het is kwart over \_\_\_\_\_.

10.



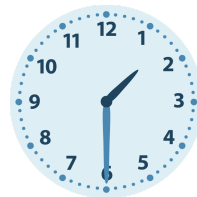
Het is kwart over \_\_\_\_\_.

11.



Het is kwart voor \_\_\_\_\_.

12.



Het is half \_\_\_\_\_.

1.

Het is kwart voor **6**.

2.

Het is half **4**.

3.

Het is kwart over **10**.

4.

Het is kwart over **10**.

5.

Het is kwart voor **9**.

6.

Het is kwart over **11**.

7.

Het is kwart over **2**.

8.

Het is kwart over **1**.

9.

Het is kwart over **1**.

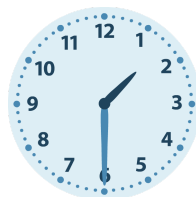
10.

Het is kwart over **4**.

11.

Het is kwart voor **12**.

12.

Het is half **2**.